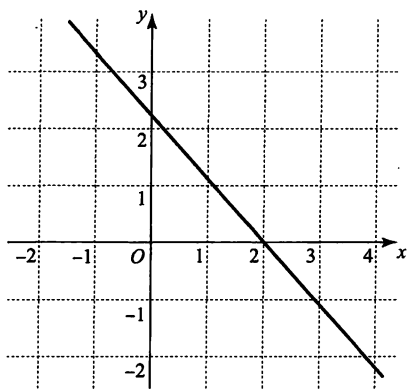


入学年度	学部	学科	組	番号	検	フリガナ
						氏名

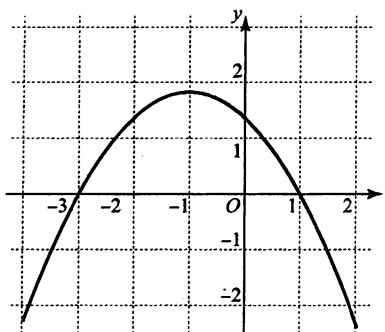
1 次の方々のグラフは関数 $f(x)$ の導関数 $f'(x)$ の概形を示したものである。それぞれの関数 $f(x)$ の増減表を書いて、 $y = f(x)$ のグラフの凹凸を調べよ。(凹凸は曲がった矢印 ↗ ↘ で表すこと。)

a)



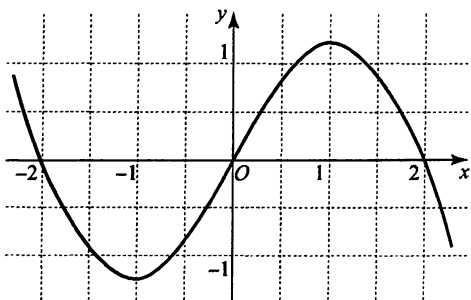
x	...	2	...
$f'(x)$	+	0	-
$f''(x)$	-	-	-
$f(x)$	↗	極大	↘

b)



x	...	-3	...	-1	...	1	...
$f'(x)$	-	0	+	+	+	0	-
$f''(x)$	+	+	+	0	-	-	-
$f(x)$	↘	極小	↗	変曲点	↗	極大	↘

c)



x	...	-2	...	-1	...	0	...	1	...	2	...
$f'(x)$	+	0	-	-	-	0	+	+	+	0	-
$f''(x)$	-	-	-	0	+	+	+	0	-	-	-
$f(x)$	↗	極大	↘	変曲点	↘	極小	↗	変曲点	↗	極大	↘

2 $f(x) = x^4 + \frac{1}{3}x^3 - 2x^2 - x - 2$ とする。

a) $f(x)$ の導関数 $f'(x)$ と 2 次導関数 $f''(x)$ を求めよ。

$$f'(x) = 4x^3 + x^2 - 4x - 1$$

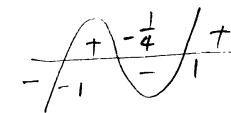
$$f''(x) = 12x^2 + 2x - 4$$

b) $f'(x) = 0$ となる x を求めよ。また、 $f'(x) > 0$ となる x の範囲を求めよ。

$$\begin{aligned} f'(x) &= 4x^3 + x^2 - 4x - 1 = 4(x^3 - x) + (x^2 - 1) \\ &= 4x(x^2 - 1) + (x^2 - 1) = (4x + 1)(x - 1)(x + 1) \end{aligned}$$

$$f'(x) = 0 \Leftrightarrow x = 1, -1, -\frac{1}{4}$$

$$f'(x) > 0 \Leftrightarrow -1 < x < -\frac{1}{4}, x > 1$$



c) $f''(x) = 0$ となる x を求めよ。また、 $f''(x) > 0$ となる x の範囲を求めよ。

$$f''(x) = 12x^2 + 2x - 4 = 2(6x^2 + x - 2) = 2(3x + 2)(2x - 1)$$

$$f''(x) = 0 \Leftrightarrow x = -\frac{2}{3}, \frac{1}{2}$$

$$f''(x) > 0 \Leftrightarrow x < -\frac{2}{3}, x > \frac{1}{2}$$

d) $f(x)$ の増減表を完成させよ。(増減だけでなくグラフの凹凸も調べること。)

x	...	-1	...	$-\frac{2}{3}$...	$-\frac{1}{4}$...	$\frac{1}{2}$...	1	...
$f'(x)$	-	0	+	+	+	0	-	-	-	0	+
$f''(x)$	+	+	+	0	-	-	-	0	+	+	+
$f(x)$	↘	極小	↗	変曲点	↗	極大	↘	変曲点	↘	極小	↗

3) $f(x) = (x-1)e^{x+1}$ とする.

a) $f(x)$ の導関数 $f'(x)$ と 2 次導関数 $f''(x)$ を求めよ.

$$\begin{aligned} f'(x) &= (x-1)'e^{x+1} + (x-1)(e^{x+1})' \\ &= e^{x+1} + (x-1)e^{x+1} \\ &= xe^{x+1} \end{aligned}$$

$$\begin{aligned} f''(x) &= (x)'e^{x+1} + x(e^{x+1})' \\ &= (x+1)e^{x+1} \end{aligned}$$

b) $f'(x) = 0$ となる x を求めよ. また, $f'(x) > 0$ となる x の範囲を求めよ.

$e^{x+1} > 0$ であることに注意して

$$f'(x) = xe^{x+1} = 0 \Leftrightarrow x = 0$$

$$xe^{x+1} > 0 \Leftrightarrow x > 0$$

c) $f''(x) = 0$ となる x を求めよ. また, $f''(x) > 0$ となる x の範囲を求めよ.

$$f''(x) = (x+1)e^{x+1} = 0 \Leftrightarrow x = -1$$

$$(x+1)e^{x+1} > 0 \Leftrightarrow x > -1$$

d) $f(x)$ の増減表を完成させよ. (増減だけでなくグラフの凹凸も調べること.)

x	...	-1	...	0	...
$f'(x)$	-	-	-	0	+
$f''(x)$	-	0	+	+	+
$f(x)$	↘	-2	↘	-e	↗

変曲点

極小

e) $f(x)$ が極大・極小となる点, および変曲点を求めよ.

極大 と なる点 なし

極小 と なる点 $x = 0$

変曲点 $(-1, -2)$

f) $e \doteq 2.718$, $e^{-1} \doteq 0.368$, $e^{-2} \doteq 0.135$ であるとして, $f(-3)$, $f(-2)$, $f(-1)$, $f(0)$, $f(1)$, $f(2)$ の値を概算せよ.

$$f(-3) = -4e^{-2} \doteq -0.541$$

$$f(1) = 0$$

$$f(-2) = -3e^{-1} \doteq -1.104$$

$$f(2) = e^3 \doteq 20.085$$

$$f(-1) = -2$$

$$f(0) = -e \doteq -2.718$$

g) $\lim_{x \rightarrow -\infty} f(x) = 0$ であることが知られている. これと, ここまでの結果を用いて, $f(x)$ のグラフを描け.

