

基礎数学 A2	入学年度	学部	学科	組	番号	検	氏名
金曜2限 担当: 鍛田 政人							

1 $f(x) = \frac{x-5}{x-3}$ とする。以下の問いに答えよ。

a) $y = f(x)$ のグラフは $y = \frac{k}{x}$ のグラフを x 軸方向に p , y 軸方向に q だけ平行移動した曲線である。 k, p, q は何かを答えよ。

$$y = \frac{x-5}{x-3} \Leftrightarrow y = 1 + \frac{-2}{x-3}$$

$$\Leftrightarrow y - 1 = \frac{-2}{x-3}$$

$$k = -2, \quad p = 3, \quad q = 1$$

b) $x = 1$ における $f(x)$ の微分係数 $f'(1)$ を極限を直接計算することによって求めよ。

$$f'(1) = \lim_{h \rightarrow 0} \frac{\frac{1+h-5}{1+h-3} - \frac{1-5}{1-3}}{h}$$

$$= \lim_{h \rightarrow 0} \frac{\frac{-4+h}{-2+h} - 2}{h}$$

$$= \lim_{h \rightarrow 0} \frac{-4+h+4-2h}{h(-2+h)}$$

$$= \lim_{h \rightarrow 0} \frac{-h}{h(-2+h)}$$

$$= \frac{1}{2}$$

c) $y = f(x)$ のグラフの $(1, 2)$ における接線の方程式を求めよ。

接線は $(1, 2)$ を通る傾き $f'(1) = \frac{1}{2}$ の直線

$$y - 2 = \frac{1}{2}(x - 1)$$

$$y = \frac{1}{2}x + \frac{3}{2}$$

d) $y = f(x)$ のグラフ, $y = f(x)$ の $(1, 2)$ における接線, および直線 $y = -2x + 7$ を右上の座標平面内に描け。

e) グラフを利用して不等式 $\frac{x-5}{x-3} \geq -2x+7$ を解け。

$y = \frac{x-5}{x-3}$ と $y = -2x+7$ の交点は

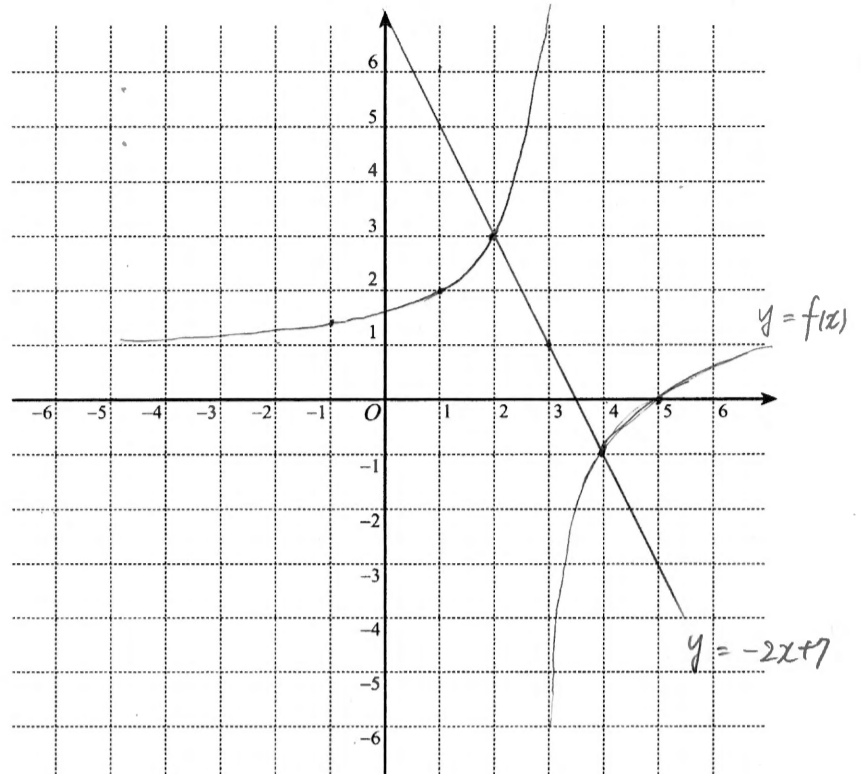
$$\frac{x-5}{x-3} = -2x+7 \Rightarrow x-5 = (x-3)(-2x+7)$$

$$\Leftrightarrow 2x^2 - 12x + 16 = 0$$

$$\Leftrightarrow (x-2)(x-4) = 0$$

$$\Leftrightarrow x = 2, 4$$

グラフより $\frac{x-5}{x-3} \geq -2x+7$ の解は $2 \leq x < 3, x \geq 4$



2 $f(x) = x - \sqrt{4-x^2}$ とする。

a) $f(x)$ の定義域を求めよ。

$$\text{根号内} \geq 0 \text{ より } -2 \leq x \leq 2$$

b) $f(x)$ の導関数 $f'(x)$ を求めよ。

$$f'(x) = 1 - \frac{1}{2}(4-x^2)^{-\frac{1}{2}} \times (4-x^2)'$$

$$= 1 + x(4-x^2)^{-\frac{1}{2}}$$

$$= 1 + \frac{x}{\sqrt{4-x^2}} = \frac{\sqrt{4-x^2} + x}{\sqrt{4-x^2}}$$

c) $f'(x) = 0$ となる x と, $f'(x) > 0$ となる x の範囲を求めよ。

$$f'(x) = 0 \Leftrightarrow \sqrt{4-x^2} + x = 0 \Rightarrow 4-x^2 = x^2$$

$$\Rightarrow x = \pm\sqrt{2}$$

$$f'(x) > 0 \Leftrightarrow \sqrt{4-x^2} + x > 0$$

$$\Leftrightarrow \sqrt{4-x^2} > -x$$

$$x > 0 \text{ かつ成り立 } x < 0 \text{ かつ } 4-x^2 > x^2 \text{ より}$$

d) $f(x)$ の増減表を書け。

x	-2	\dots	$-\sqrt{2}$	\dots	2
$f'(x)$	\times	$-$	0	$+$	\times
$f(x)$	-2	\searrow	$-2\sqrt{2}$	\nearrow	2

e) 関数 $f(x)$ の定義域内における最小値・最大値を求めよ。

$$\text{最小値 } -2\sqrt{2} \quad (x = -\sqrt{2})$$

$$\text{最大値 } 2 \quad (x = 2)$$

3 $f(x) = -\sqrt{-2x+6}$ とする。以下の問いに答えよ。

a) 関数 $y = f(x)$ の定義域と値域を求めよ。

$$\text{定義域: } -2x+6 \geq 0 \text{ より } x \leq 3$$

$$\text{値域: } y \leq 0$$

b) $y = f(x)$ の逆関数 $y = f^{-1}(x)$ を求め、その定義域と値域を述べよ。

$$y = -\sqrt{-2x+6} \Rightarrow y^2 = -2x+6$$

$$\Rightarrow x = -\frac{1}{2}y^2 + 3 \quad (y \leq 0)$$

$\therefore x$ と y を入れ換えて

$$y = -\frac{1}{2}x^2 + 3 \quad (x \leq 0)$$

$$\therefore f^{-1}(x) = -\frac{1}{2}x^2 + 3$$

c) $f(x)$ の導関数 $f'(x)$ を求めよ。[極限の定義に戻らなくてよい。]

$$f'(x) = \left(-(-2x+6)^{\frac{1}{2}}\right)'$$

$$= -\frac{1}{2}(-2x+6)^{-\frac{1}{2}} \times (-2x+6)'$$

$$= \frac{1}{\sqrt{-2x+6}}$$

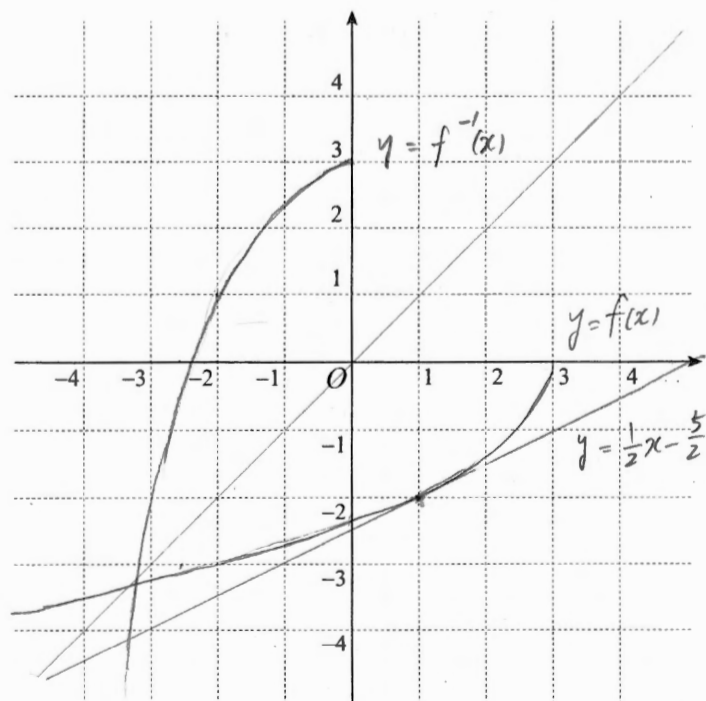
d) $y = f(x)$ のグラフの $(1, -2)$ における接線の方程式を求めよ。

$$f'(1) = \frac{1}{\sqrt{4}} = \frac{1}{2}$$

$$\therefore y - (-2) = \frac{1}{2}(x - 1)$$

$$y = \frac{1}{2}x - \frac{5}{2}$$

e) $y = f(x)$ のグラフ、 $y = f(x)$ の $(1, -2)$ における接線、逆関数 $y = f^{-1}(x)$ のグラフの3つを右上の座標平面内に描け。



4 次の各々の関数の導関数を求めよ。

a) $f(x) = \frac{x-1}{x^2+x+1}$

$$f'(x) = \frac{(x-1)'(x^2+x+1) - (x-1)(x^2+x+1)'}{(x^2+x+1)^2}$$

$$= \frac{x^2+x+1 - (x-1)(2x+1)}{(x^2+x+1)^2}$$

$$= \frac{-x^2+2x+2}{(x^2+x+1)^2}$$

b) $f(x) = \frac{1}{\sqrt{x^2+1}}$

$$f'(x) = \left((x^2+1)^{-\frac{1}{2}}\right)' = -\frac{1}{2}(x^2+1)^{-\frac{3}{2}} \times (x^2+1)'$$

$$= -x(x^2+1)^{-\frac{3}{2}}$$

$$= \frac{-x}{(\sqrt{x^2+1})^3}$$

c) $f(x) = (x^2+1)e^{-2x}$

$$f'(x) = (x^2+1)'e^{-2x} + (x^2+1)(e^{-2x})'$$

$$= 2xe^{-2x} + (x^2+1)e^{-2x} \times (-2)$$

$$= -2(x^2-x+1)e^{-2x}$$

d) $f(x) = x^2 \log x$

$$f'(x) = (x^2)' \log x + x^2 (\log x)'$$

$$= 2x \log x + x^2 \times \frac{1}{x}$$

$$= x(2 \log x + 1)$$

基礎数学 A2	入学年度	学部	学科	組	番号	検	氏名
金曜2限 担当: 鎌田 政人							

5) $f(x) = (-x-2)e^{-x}$ とする.

a) $f(x)$ の導関数 $f'(x)$ を求めよ.

$$\begin{aligned} f'(x) &= (-x-2)'e^{-x} + (-x-2)(e^{-x})' \\ &= -e^{-x} + (-x-2)e^{-x} \cdot (-1) \\ &= (x+1)e^{-x} \end{aligned}$$

b) $f'(x) = 0$ となる x と, $f'(x) > 0$ となる x の範囲を求めよ.

$$\begin{aligned} f'(x) = 0 &\Leftrightarrow (x+1)e^{-x} = 0 \\ &\Leftrightarrow x+1 = 0 \\ &\Leftrightarrow x = -1 \\ f'(x) > 0 &\Leftrightarrow (x+1)e^{-x} > 0 \\ &\Leftrightarrow x+1 > 0 \quad (\because e^{-x} > 0) \\ &\Leftrightarrow x > -1 \end{aligned}$$




c) $f(x)$ の2次導関数 $f''(x)$ を求めよ.

$$\begin{aligned} f''(x) &= (x+1)'e^{-x} + (x+1)(e^{-x})' \\ &= e^{-x} + (x+1)e^{-x} \cdot (-1) \\ &= -xe^{-x} \end{aligned}$$

d) $f''(x) = 0$ となる x と, $f''(x) > 0$ となる x の範囲を求めよ.

$$\begin{aligned} f''(x) = 0 &\Leftrightarrow -xe^{-x} = 0 \\ &\Leftrightarrow x = 0 \\ f''(x) > 0 &\Leftrightarrow -xe^{-x} > 0 \\ &\Leftrightarrow x < 0 \end{aligned}$$

e) $f(x)$ の増減表を完成させよ. (増減だけでなくグラフの凹凸も調べること.)

x	...	-1	...	0	...
$f'(x)$	-	0	+	+	+
$f''(x)$	+	+	+	0	-
$f(x)$		-e		-2	

f) $e = 2.718$, $e^{-1} = 0.368$ として $f(-3)$, $f(-2)$, $f(-1)$, $f(0)$, $f(1)$, $f(2)$ を求めよ. ただし, 答えは小数第3位を四捨五入して小数第2位まで求めること.

$$f(-3) = 20.09$$

$$f(-2) = 0.00$$

$$f(-1) = -2.72$$

$$f(0) = -2.00$$

$$f(1) = -1.10$$

$$f(2) = -0.54$$

g) $f(x)$ の極大値・極小値があればそれを求め, それらをとる x の値を求めよ.

極大値 なし

極小値 $-e$ ($x = -1$)

h) $y = f(x)$ のグラフの変曲点の x 座標を求めよ.

$$x = 0$$

i) ここまでの結果を反映させ, $y = f(x)$ のグラフをなるべく丁寧に描け.

