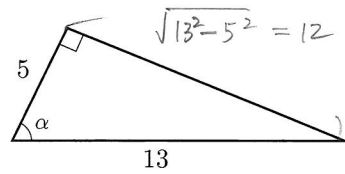


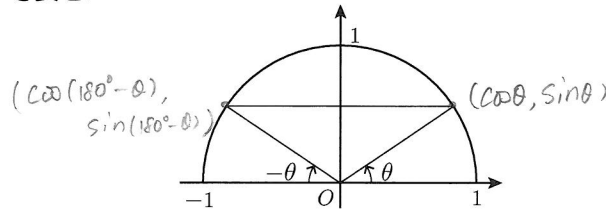
1 右の図の直角三角形について、角 α の正弦、余弦、正接を求めよ。

- a) $\sin \alpha = \frac{12}{13}$
- b) $\cos \alpha = \frac{5}{13}$
- c) $\tan \alpha = \frac{12}{5}$



2 右の図を参照して次の式を $\sin \theta$, $\cos \theta$, $\tan \theta$ で表せ。

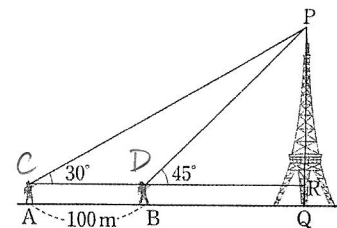
- a) $\sin(180^\circ - \theta) = \sin \theta$
- b) $\cos(180^\circ - \theta) = -\cos \theta$
- c) $\tan(180^\circ - \theta) = -\tan \theta$



3 次の表を完成させよ。

θ	0°	30°	45°	60°	90°	120°	135°	150°	180°
$\sin \theta$	0	$\frac{1}{2}$	$\frac{\sqrt{2}}{2}$	$\frac{\sqrt{3}}{2}$	1	$\frac{\sqrt{3}}{2}$	$\frac{\sqrt{2}}{2}$	$\frac{1}{2}$	0
$\cos \theta$	1	$\frac{\sqrt{3}}{2}$	$\frac{\sqrt{2}}{2}$	$\frac{1}{2}$	0	$-\frac{1}{2}$	$-\frac{\sqrt{2}}{2}$	$-\frac{\sqrt{3}}{2}$	-1
$\tan \theta$	0	$\frac{\sqrt{3}}{3}$	1	$\sqrt{3}$	\times	$-\sqrt{3}$	-1	$-\frac{\sqrt{3}}{3}$	0

4 右の図のように、ある地点 A から塔の先端 P を見上げる角を測ったら 30° であった。次に、塔に向かって、100m 進んだ地点 B から P を見上げる角を測ったら 45° であった。目の高さを 1.5m とすると、塔の高さは何 m か。



C, D を右図のように定める。

$$PR = DR \tan 45^\circ = CR \tan 30^\circ \quad \text{--- ①}$$

$$CR - DR = 100 \text{ m} \quad \text{--- ②}$$

$$\text{①より } DR = \frac{1}{\sqrt{3}} CR \Rightarrow CR = \sqrt{3} DR$$

$$\text{②より } \sqrt{3} DR - DR = 100 \text{ (m)}$$

$$\therefore DR = \frac{100}{\sqrt{3}-1} = \frac{100(\sqrt{3}+1)}{(\sqrt{3}-1)(\sqrt{3}+1)} = 50(\sqrt{3}+1)$$

$$\therefore PQ = PR + 1.5 = 50 \times 2.732 + 1.5 = 138.1 \text{ (m)}$$

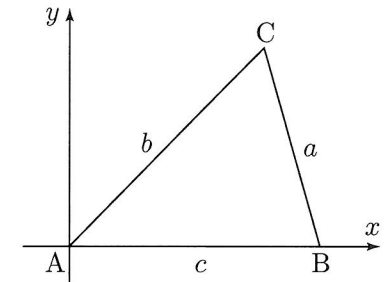
5 三角形 $\triangle ABC$ に対して右図のように座標軸を定めれば、3 頂点の座標はそれぞれ $A(0, 0)$, $B(c, 0)$, $C(b \cos A, b \sin A)$ となる。BC の長さの 2 乗を計算することにより余弦定理 $a^2 = b^2 + c^2 - 2bc \cos A$ を証明せよ。

2点 (x_1, y_1) , (x_2, y_2) 間の距離は、

$$\sqrt{(x_1 - x_2)^2 + (y_1 - y_2)^2} \quad \text{--- ①}$$

$$\begin{aligned} BC^2 &= (b \cos A - c)^2 + (b \sin A)^2 \\ &= b^2 \cos^2 A - 2bc \cos A + c^2 + b^2 \sin^2 A \\ &= b^2 (\underbrace{\cos^2 A + \sin^2 A}_1) - 2bc \cos A + c^2 \end{aligned}$$

$$\therefore a^2 = b^2 + c^2 - 2bc \cos A$$



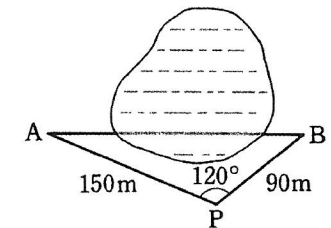
6 右の図のように、池を隔てた 2 地点 A, B 間の距離を求めるため、PA, PB, $\angle APB$ を測ったところ、

$$PA = 150 \text{ m}, \quad PB = 90 \text{ m}, \quad \angle APB = 120^\circ$$

であった。A, B 間の距離を求めよ。

$$\begin{aligned} AB^2 &= PA^2 + PB^2 - 2PA \cdot PB \cos P \\ &= 150^2 + 90^2 - 2 \times 150 \times 90 \times \cos 120^\circ \\ &= 22500 + 8100 + 13500 \\ &= 44100 \end{aligned}$$

$$\therefore AB = \sqrt{44100} = 210 \text{ (m)}$$



7 次の角は弧度法でいくらか。

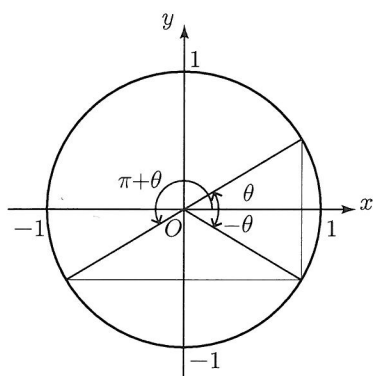
- a) $12^\circ = \frac{\pi}{15}$
- b) $15^\circ = \frac{\pi}{12}$
- c) $36^\circ = \frac{\pi}{5}$
- d) $45^\circ = \frac{\pi}{4}$
- e) $90^\circ = \frac{\pi}{2}$
- f) $120^\circ = \frac{2\pi}{3}$
- g) $135^\circ = \frac{3\pi}{4}$
- h) $150^\circ = \frac{5\pi}{6}$

8 弧度法で表された次の角を度数で表せ。

- a) $\frac{\pi}{10} = 18^\circ$
- b) $\frac{\pi}{5} = 36^\circ$
- c) $\frac{2\pi}{3} = 120^\circ$
- d) $\frac{5\pi}{12} = 75^\circ$
- e) $\frac{5\pi}{4} = 225^\circ$
- f) $\frac{3\pi}{2} = 270^\circ$
- g) $\frac{7\pi}{4} = 315^\circ$
- h) $3\pi = 540^\circ$

9 右の図を参照して次の式を $\sin \theta$, $\cos \theta$, $\tan \theta$ で表せ.

- a) $\sin(-\theta) = -\sin \theta$
- b) $\cos(-\theta) = \cos \theta$
- c) $\tan(-\theta) = -\tan \theta$
- d) $\sin(\pi + \theta) = -\sin \theta$
- e) $\cos(\pi + \theta) = -\cos \theta$
- f) $\tan(\pi + \theta) = \tan \theta$



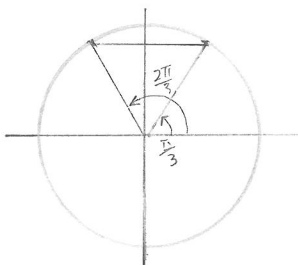
10 次の値を求めよ.

- a) $\sin \frac{7\pi}{6} = -\frac{1}{2}$
- b) $\sin\left(-\frac{2\pi}{3}\right) = -\frac{\sqrt{3}}{2}$
- c) $\sin \frac{4\pi}{4} = 0$
- d) $\cos \frac{7\pi}{6} = -\frac{\sqrt{3}}{2}$
- e) $\cos\left(-\frac{2\pi}{3}\right) = -\frac{1}{2}$
- f) $\cos \frac{4\pi}{4} = -1$

11 次の方程式をみたす角 θ を求めよ. ただし, $0 \leq \theta < 2\pi$ とする.

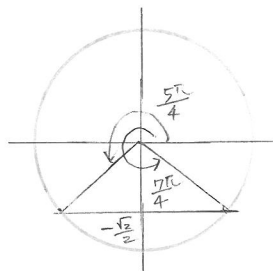
a) $\sin \theta = \frac{\sqrt{3}}{2}$

$\theta = \frac{\pi}{3}, \frac{2\pi}{3}$



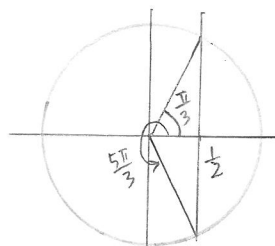
b) $\sin \theta = -\frac{\sqrt{2}}{2}$

$\theta = \frac{5\pi}{4}, \frac{7\pi}{4}$



c) $\cos \theta = \frac{1}{2}$

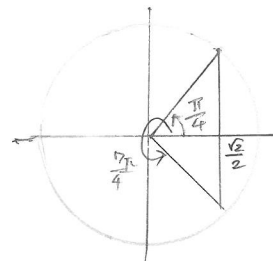
$\theta = \frac{\pi}{3}, \frac{5\pi}{3}$



d) $\sqrt{2} \cos \theta = 1$

$\cos \theta = \frac{1}{\sqrt{2}}$

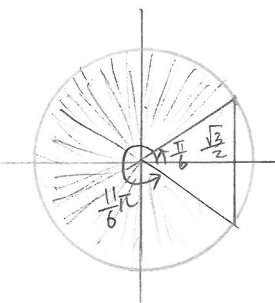
$\theta = \frac{\pi}{4}, \frac{7\pi}{4}$



12 次の不等式をみたす角 θ の範囲を求めよ. ただし, $0 \leq \theta < 2\pi$ とする.

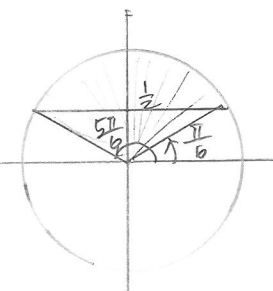
a) $\cos \theta \leq \frac{\sqrt{3}}{2}$

$\frac{\pi}{6} \leq \theta \leq \frac{11\pi}{6}$



b) $\sin \theta > \frac{1}{2}$

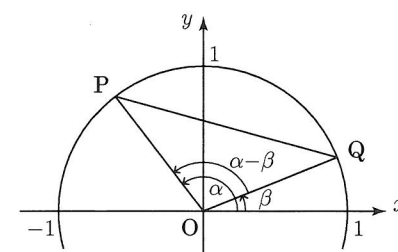
$\frac{\pi}{6} < \theta < \frac{5\pi}{6}$



13 右の図を参照して三角関数の加法定理を証明したい.

a) $\triangle OPQ$ に余弦定理を適用して, PQ^2 を $\cos(\alpha - \beta)$ を用いて表せ.

$$PQ^2 = OP^2 + OQ^2 - 2OP \cdot OQ \cos(\alpha - \beta) = 2 - 2\cos(\alpha - \beta)$$



b) P, Q の座標がそれぞれ $P(\cos \alpha, \sin \alpha)$, $Q(\cos \beta, \sin \beta)$ であることを使って, PQ^2 を $\cos \alpha$, $\cos \beta$, $\sin \alpha$, $\sin \beta$ を用いて表せ.

$$PQ^2 = (\cos \beta - \cos \alpha)^2 + (\sin \beta - \sin \alpha)^2 = \cos^2 \beta - 2\cos \alpha \cos \beta + \cos^2 \alpha + \sin^2 \beta - 2\sin \alpha \sin \beta + \sin^2 \alpha = 2 - 2\cos \alpha \cos \beta - 2\sin \alpha \sin \beta$$

c) a) と b) の結果をあわせて, $\cos(\alpha - \beta)$ の加法定理を示せ.

$$2 - 2\cos(\alpha - \beta) = 2 - 2\cos \alpha \cos \beta - 2\sin \alpha \sin \beta \therefore \cos(\alpha - \beta) = \cos \alpha \cos \beta + \sin \alpha \sin \beta$$

d) 関係式 $\sin \theta = \cos\left(\frac{\pi}{2} - \theta\right)$ を用いて, $\sin(\alpha + \beta)$ の加法定理を示せ.

$$\sin(\alpha + \beta) = \cos\left(\frac{\pi}{2} - (\alpha + \beta)\right) = \cos\left(\left(\frac{\pi}{2} - \alpha\right) - \beta\right) = \cos\left(\frac{\pi}{2} - \alpha\right)\cos \beta + \sin\left(\frac{\pi}{2} - \alpha\right)\sin \beta = \sin \alpha \cos \beta + \cos \alpha \sin \beta$$

14 $\sin \theta = -\frac{1}{\sqrt{3}}$, $\pi < \theta < \frac{3\pi}{2}$ のとき, 次の値を求めよ.

a) $\sin 2\theta = 2\sin \theta \cos \theta$

$\pi < \theta < \frac{3\pi}{2}$ より $\cos \theta < 0$ だから

$\cos \theta = -\sqrt{1 - \sin^2 \theta} = -\frac{\sqrt{6}}{3}$

$\therefore \sin 2\theta = 2 \times \left(-\frac{1}{\sqrt{3}}\right) \times \left(-\frac{\sqrt{6}}{3}\right) = \frac{2\sqrt{3}}{3}$

b) $\cos \frac{\theta}{2} =$

$\cos^2 \frac{\theta}{2} = \frac{1 + \cos \theta}{2} = \frac{1 - \frac{\sqrt{6}}{3}}{2} = \frac{3 - \sqrt{6}}{6}$

$\therefore \frac{\pi}{2} < \frac{\theta}{2} < \frac{3\pi}{4}$ より

$\cos \frac{\theta}{2} < 0$

$\therefore \cos \frac{\theta}{2} = -\sqrt{\frac{3 - \sqrt{6}}{6}}$

15 次の方程式を解け. ただし $0 \leq \theta < 2\pi$ とする.

a) $\sin 2x = \cos x$

$2\sin x \cos x = \cos x$

$(2\sin x - 1)\cos x = 0$

$\sin x = \frac{1}{2}$ 又は $\cos x = 0$

$x = \frac{\pi}{6}, \frac{5\pi}{6}, \frac{\pi}{2}, \frac{3\pi}{2}$

b) $\cos 2x + 3\cos x - 1 = 0$

$2\cos^2 x - 1 + 3\cos x - 1 = 0$

$2\cos^2 x + 3\cos x - 2 = 0$

$(2\cos x - 1)(\cos x + 2) = 0$

$\cos x = \frac{1}{2}$ 又は -2

$x = \frac{\pi}{3}, \frac{5\pi}{3}$