

1 次関数 $f(x)$ の導関数 $f'(x)$ を求め、 $f'(x) > 0$ となる x の範囲を求めよ。さらにそれをもとに増減表を書け。

a) $f(x) = x^3 - 3x^2 + 3$

$$f'(x) = 3x^2 - 6x = 3x(x-2)$$

$$f'(x) > 0 \Leftrightarrow 3x(x-2) > 0 \Leftrightarrow x < 0, x > 2$$

x	---	0	---	2	---
$f'(x)$	+	0	-	0	+
$f(x)$	↗	3	↘	-1	↗

b) $f(x) = x^3 + 3x^2 - 9x + 5$

$$f'(x) = 3x^2 + 6x - 9 = 3(x^2 + 2x - 3) = 3(x-1)(x+3)$$

$$f'(x) > 0 \Leftrightarrow x < -3, x > 1$$

x	---	-3	---	1	---
$f'(x)$	+	0	-	0	+
$f(x)$	↗	32	↘	0	↗

2 関数 $f(x) = x^3 - 3x^2 + 4$ の導関数 $f'(x)$ を求め、 $f'(x) > 0$ となる x の範囲を求めよ。さらにそれをもとに増減表を書き、 $-2 \leq x \leq 3$ における最大値と最小値を求めよ。また、それらを与える x の値を求めよ。

$$f'(x) = 3x^2 - 6x = 3x(x-2)$$

$$f'(x) > 0 \Leftrightarrow x < 0, x > 2$$

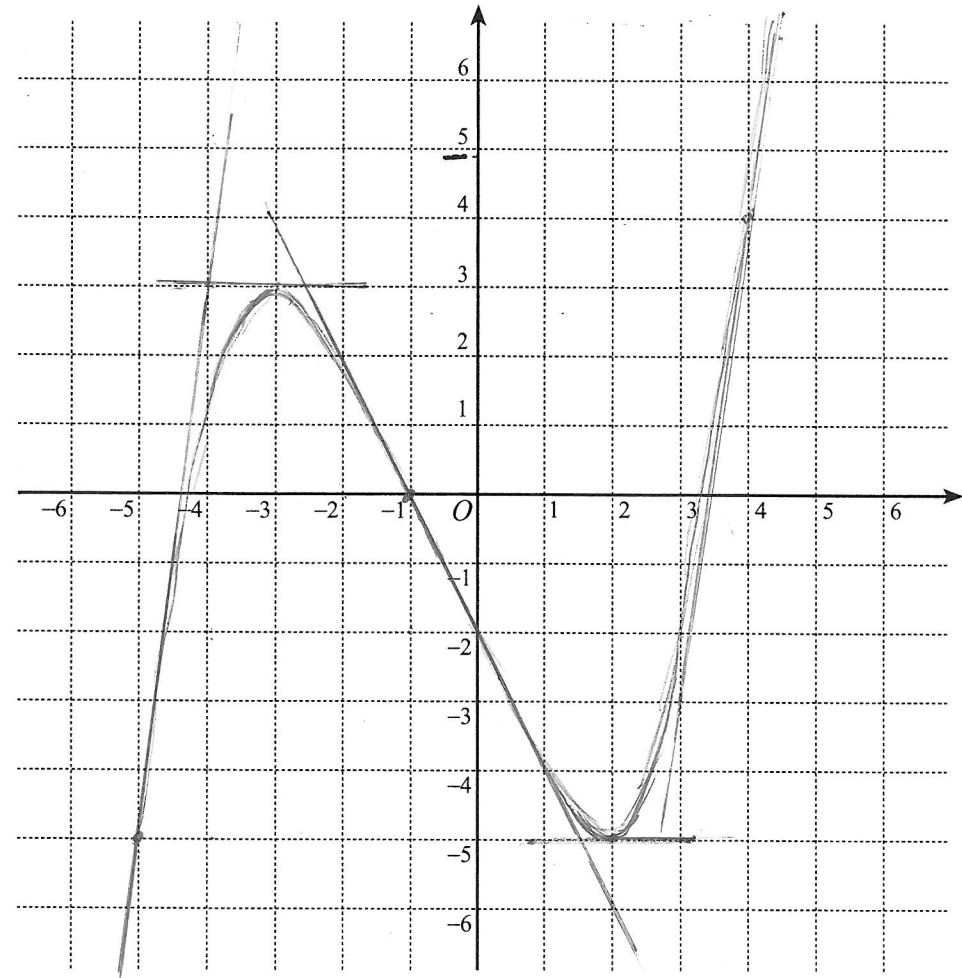
増減表より

$x=0, 3$ のとき最大で
最大値 4
 $x=-2$ のとき最小で
最小値 -16

x	-2		0		2		3
$f'(x)$	+	+	0	-	0	+	+
$f(x)$	-16	↗	4	↘	0	↗	4

3 関数 $f(x)$ とその導関数 $f'(x)$ について、わかっていることが下の表にまとめてある。(注: この関数 $f(x)$ は3次関数ではない。) このとき、 $y = f(x)$ のグラフを可能な限りなるべく忠実に描け。[まず、 $x = -5, -3, -1, 2, 4$ における接線を描くことから始めるとよい。]

x		-5		-3		-1		2		4	
$f'(x)$	+	8	+	0	-	-2	-	0	+	7	+
$f(x)$	↗	-5	↗	3	↘	0	↘	-5	↗	4	↗



4 次関数 $f(x)$ の増減表を書き、グラフを描け。

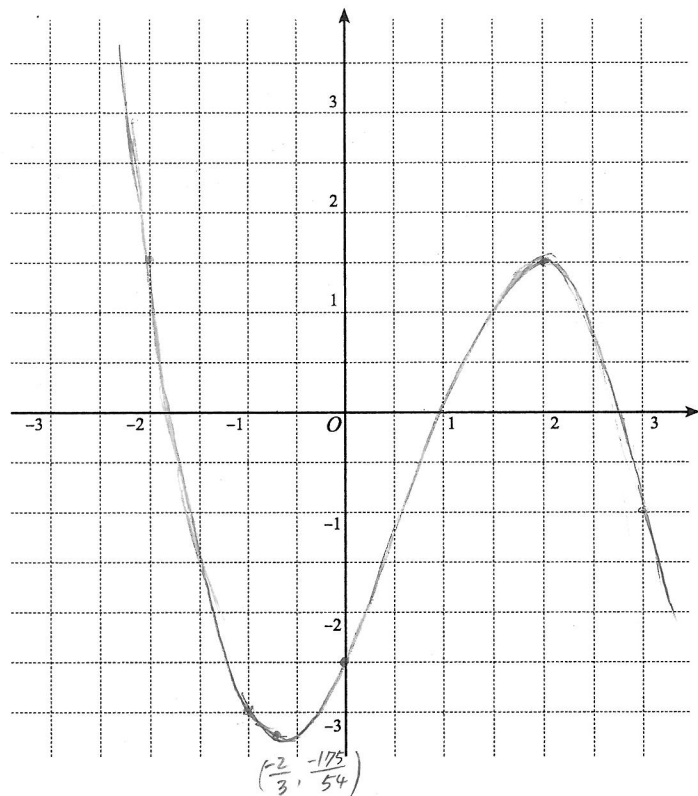
a) $f(x) = -\frac{1}{2}x^3 + x^2 + 2x - \frac{5}{2}$

$$f'(x) = -\frac{3}{2}x^2 + 2x + 2$$

$$= -\frac{1}{2}(3x^2 - 4x - 4)$$

$$= -\frac{1}{2}(3x+2)(x-2)$$

x		$-\frac{2}{3}$		2	
$f'(x)$	-	0	+	0	-
$f(x)$	\searrow	$-\frac{175}{54}$	\nearrow	$\frac{3}{2}$	\searrow



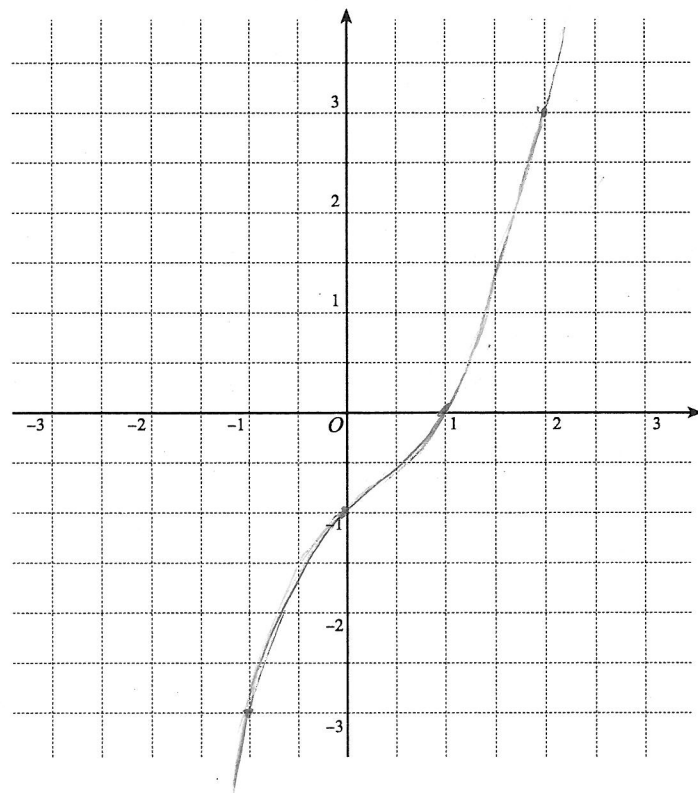
b) $f(x) = \frac{1}{2}x^3 - \frac{1}{2}x^2 + x - 1$

$$f'(x) = \frac{3}{2}x^2 - x + 1$$

$$= \frac{3}{2}\left(x - \frac{1}{3}\right)^2 + \frac{5}{6}$$

$\therefore f'(x)$ は常に正

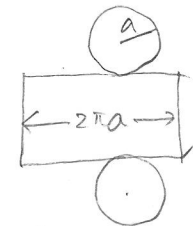
x	---
$f'(x)$	+
$f(x)$	\nearrow



5 底面の半径が a 、高さが h の直円柱がある。

a) この直円柱の表面積を求めよ。

$$\text{表面積 } S = 2\pi ah + 2\pi a^2$$



b) この直円柱の表面積が 8π であるとき、この直円柱の体積を a を用いて表せ。

$$S = 8\pi \Leftrightarrow 8\pi = 2\pi ah + 2\pi a^2 \Leftrightarrow h = \frac{4-a^2}{a}$$

$$\therefore \text{体積 } V = \pi a^2 h = \pi a^2 \cdot \frac{4-a^2}{a} = \pi a(4-a^2)$$

c) 表面積が 8π である直円柱のうちで、体積が最大となるものの底面の半径と高さを求めよ。

$$V = \pi(4a - a^3), \quad a > 0$$

$$\frac{dV}{da} = \pi(4 - 3a^2)$$

a	0	$\frac{2}{\sqrt{3}}$	
$\frac{dV}{da}$		+	0 -
V	\nearrow	最大	\searrow

増減表より

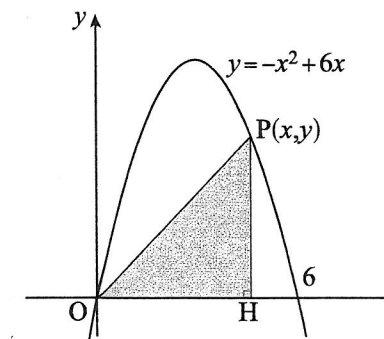
$$a = \frac{2}{\sqrt{3}} = \frac{2\sqrt{3}}{3} \text{ のとき } V \text{ 最大}$$

$$\therefore \text{このとき } h = \frac{4 - \frac{4}{3}}{\frac{2}{\sqrt{3}}} = \frac{8}{3} \cdot \frac{\sqrt{3}}{2} = \frac{4\sqrt{3}}{3}$$

6 右図のように関数

$$y = -x^2 + 6x \quad (0 \leq x \leq 6)$$

のグラフ上の点 $P(x, y)$ から x 軸に垂線 PH を下ろす。
このとき、 $\triangle POH$ の面積を最大にする x の値と面積の最大値を求めよ。



$$\begin{aligned} \triangle POH \text{ の面積 } S &= \frac{1}{2} OH \cdot HP \\ &= \frac{1}{2} x(-x^2 + 6x) \\ &= -\frac{1}{2} x^3 + 3x^2 \end{aligned}$$

$$\frac{dS}{dx} = -\frac{3}{2} x^2 + 6x = -\frac{3}{2} x(x-4)$$

x	0	---	4	---	6
$\frac{dS}{dx}$	0	+	0	-	
S	0	\nearrow	16	\searrow	0

増減表より $x=4$ のとき面積最大?
最大値 16