

1 次の関数を微分せよ.

a) $f(x) = x^3 - 6x^2 + 3$

$$f'(x) =$$

b) $f(x) = x(7x - 3x^2)$

$$f'(x) =$$

c) $f(x) = (2x - 1)(3x + 5)$

$$f'(x) =$$

d) $f(x) = (5x - 1)^2$

$$f'(x) =$$

e) $f(x) = (4x^2 - 1)(3x + 2)$

$$f'(x) =$$

f) $f(x) = (x + 1)(x^2 - x + 1)$

$$f'(x) =$$

2 次の関数を [] 内の変数で微分せよ.

a) $s = h + vt - \frac{1}{2}gt^2 \quad [t]$

$$\frac{ds}{dt} =$$

b) $V = \frac{4}{3}\pi r^3 \quad [r]$

$$\frac{dV}{dr} =$$

3 関数 $y = 2x^3 - 16x + 11$ のグラフ上の点 $(2, -5)$ における接線の方程式を求めよ.

学生証番号 : _____ 氏名 : _____

4 次関数 $f(x)$ について, $f'(x) > 0$ となる x の範囲を求めよ.

a) $f(x) = x^3 + 3x^2 + 5$

b) $f(x) = x^3 - 3x^2 - 9x + 15$

5 次関数の増減表を書け.

a) $f(x) = x^3 - 3x^2 + 3$

b) $f(x) = x^3 + 3x^2 - 9x + 5$

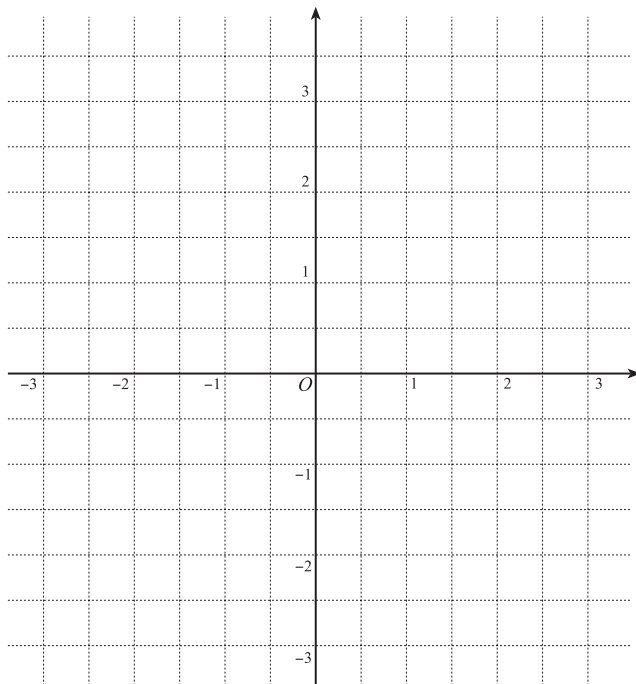
6 次関数の極大値, 極小値とそれらを与える x の値を求めよ.

a) $f(x) = -x^3 + 3x + 1$

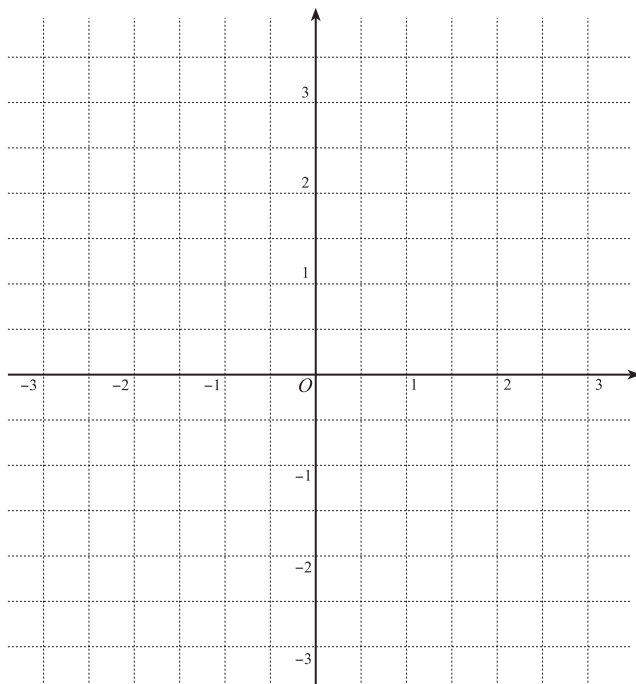
b) $f(x) = 2x^3 - 9x^2 + 12x - 2$

7 次関数の増減表を書き、グラフを描け.

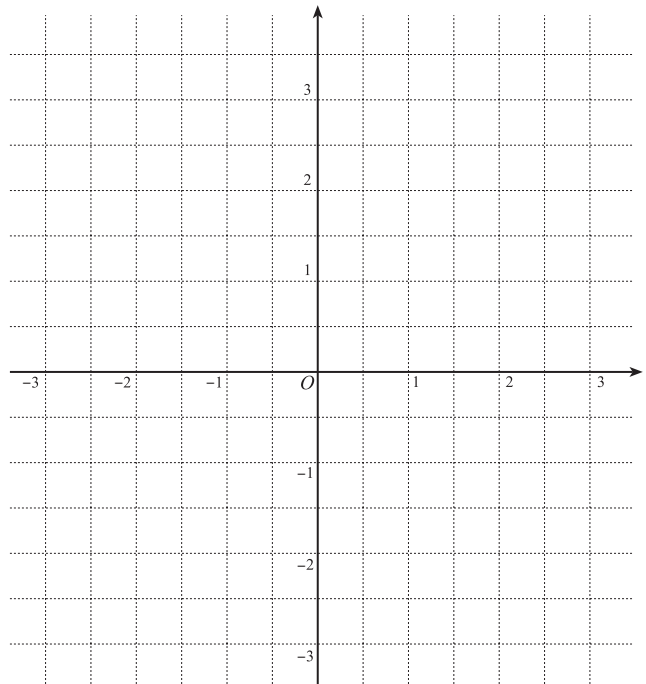
a) $f(x) = \frac{1}{2}x^3 - x^2 - 2x + \frac{5}{2}$



b) $f(x) = \frac{1}{2}x^3 - \frac{1}{2}x^2 + x - 1$



c) $f(x) = -x^3 + 3x^2 - 2$



8 次の関数の最大値と最小値とそれらを与える x の値を求めよ。

a) $x^3 - 12x$ ($-3 \leq x \leq 3$)

b) $x^3 - 3x^2 + 4$ ($-2 \leq x \leq 2$)